

نام :
بسمه تعالی

نام خانوادگی :
وزارت آموزش و پرورش
شاهد

نام آموزشگاه : پسرانه

اداره کل آموزش و پرورش

ماده درسی : ریاضی

استان آذربایجان غربی

کلاس : چهارم 1

معاونت

اداره کل و مدیریت آموزش و پرورش خوی

نوبت امتحانی :

تاریخ امتحان

مدت امتحان :

دقیقه :

تعداد سوال :

تعداد صفحه : 2

صفحه : 1

1 با توجه به عددمقابل به سوالات پاسخ دهید.

7043579

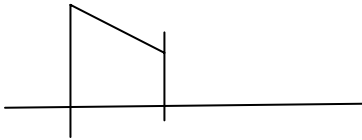
الف) عدد رابه حروف بنویسید .

ب) رقم صدگان هزار آن چندانست ؟
ج) کدام رقم بیشترین ارزش مکانی را دارد ؟

2 جدول زیر را کامل کنید .

رقم	حروف
64002078	
	پنج میلیون و نهصد هزار و صد و بیست و یک

3 در شکل زیر چند پاره خط و چند نیم خط و چند نقطه وجود دارد ؟



پاره خط :

نیم خط :

4 چرا نمی توانیم پاره خط را ادامه دهیم ولی خط راست را می توانیم ادامه دهیم ؟

5 با توجه به عبارت زیر مسئله ای بسازید و سپس آن را حل کنید ؟

$$= (175)$$

6 مجموع پول سه نفر 6500 تومان است . اگر اولی 3000 تومان و دومی 1800 تومان کمتر از اولی داشته باشد . پول نفر سوم چقدر است ؟

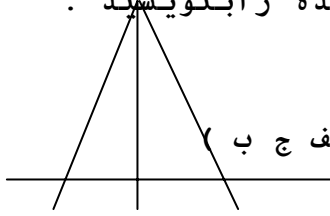
7 در جای خالی کلمه مناسب بنویسید .

الف) زاویه باز از زاویه تند است .
ب) برای تشخیص زاویه راست از استفاده می کنیم .

ج) نیم خطی که زاویه رابه دو قسمت مساوی تقسیم می کند

..... می گویند .

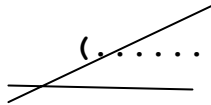
8 به شکل زیر نگاه کنید و نوع زاویه های خواسته شده را بنویسید .



(الف ر م)

(الف ش د) (الف ج ب)

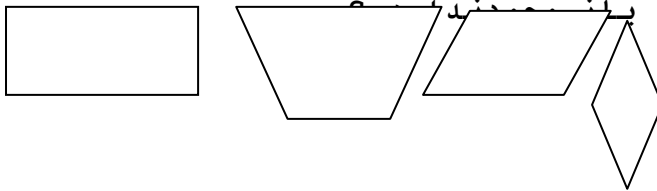
9 زاویه مقابل رابه سه روش نام ببرید .



زاویه (.....) زاویه (.....)

زاویه (.....)

10 شکلی رسم کنید که دوزاویه راست و یک زاویه تند و یک زاویه باز داشته باشد .



12 مریم 3570 تومان پول دارد . پول برادرش 83 تومان کم تر از پول مریم است . برادر مریم چند تومان پول دارد ؟

13 عددی بنویسید که یکان آن با یکان هزار و دهگان آن با دهگان هزار و صدگان آن با صدگان هزار برابر باشد ؟

14 علامت ($<$ $=$ $>$) بگذارید . در داخل
 75025 750250

8090 830102 803012
 هشتصد هزار و نه

موفق باشید : قاسمی